







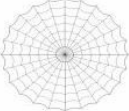






EDUKACJA POLONISTYCZNA

1. Narysuj tyle kótek, ile jest głosek w wyrazie.



2. Pokoloruj tyle kótek ile jest sylab w wyrazie

		
○ ○ ○ ○ ○	○ ○ ○ ○ ○	○ ○ ○ ○ ○
		
○ ○ ○ ○ ○	○ ○ ○ ○ ○	○ ○ ○ ○ ○
		
○ ○ ○ ○ ○	○ ○ ○ ○ ○	○ ○ ○ ○ ○
		
○ ○ ○ ○ ○	○ ○ ○ ○ ○	○ ○ ○ ○ ○

3. Napisz litery. Pamiętaj o liniaturze

m M I L u U t T o O a A

4. Przepisz starannie wyrazy.

mata lala Ula lot

5. Przepisz starannie zdanie.

To Ula a to lala .

6. Przeczytaj zdania i przyjrzyj się rysunkowi. Obok właściwego podpisu postaw X.

- To tama.
- To mata.
- To mama.



7. Policz, z ilu wyrazów składa się każde zdanie. Napisz obok tą liczbę.

Ala ma maki.

Mama Tomka ma
łoki.

8. Podziel wyrazy na sylaby.

buda

serce

cebula

jajko

Kamil

wanna

sok

Amelia

9. Podkreśl zdania, które opisują to, co widzisz na obrazku



Wiktoria dokarmia ptaki.

Na niebie jest tęcza.

Ola lepi kule ze śniegu.

Wiktoria ma różową torebkę.

10. **Połącz kreską zdanie z odpowiednim obrazkiem.**

Agatka ma jednego kota.

To kot Agatki.

Mama Olka przygląda się kotu.



11. **Napisz, z ilu wyrazów składa się każde zdanie.**


Tata Adama ma kota

Magda ma lale.

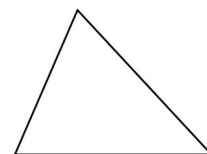


EDUKACJA MATEMATYCZNA

1. Narysuj:

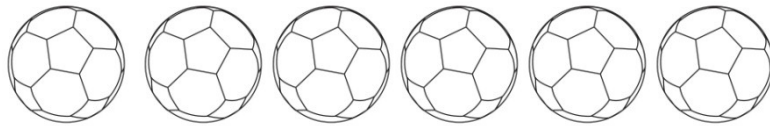
- budę dla psa po lewej stronie domu,
- psa po prawej stronie drzewa,
- słońce nad większą chmurą,
- kwiaty między domem a drzewem



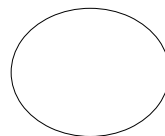


2. Pokoloruj: kwadrat na niebiesko, koło na żółto, prostokąt na zielono, trójkąt na czerwono.



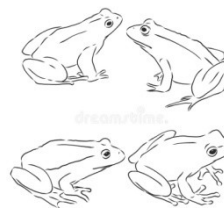
3. Pokoloruj drugą piłkę na zielono, piątą piłkę na niebiesko




4. Policz figury geometryczne i wpisz odpowiednie liczby pod obrazkiem



5. Policz i wpisz odpowiednie liczby



6. Pokoloruj na zielono wagonik z największą liczbą, a na niebiesko wagonik z najmniejszą liczbą.



7. Połącz działanie z właściwym wynikiem.

- $3+4=$
- $4+2=$
- $1+4=$
- $7+0=$
- $2+5=$
- $2+2=$
- $2+1=$

4, 5, 7, 3, 6, 7

8. Połącz działanie z właściwym wynikiem

- $6-5=$
- $7-4=$
- $7-6=$
- $5-3=$
- $6-2=$
- $6-3=$

2, 3, 4, 1

9. Uzupełnij zdania.

Tydzień to..... dni. Mamy
pory roku.

10. Wypisz liczby od najmniejszej do największej

4 6 8 1 5 9 2
3 7 10

11. Uzupełnij działania odpowiednimi liczbami

- $5 + \dots = 9$
- $10 - \dots = 3$
- $\dots + 0 = 8$
- $\dots - 7 = 1$

12. Odczytaj godziny na zegarach. Zaznacz właściwą godzinę



.....
12.00

.....
3.00

.....
9.00

8.00

2.00

9.00

3.00

9.00

13. Wpisz brakujące liczby.

.....5.....

7.....9

.....4.....6.....

14. Rozwiąż zadania.

- Natalia włożyła do wazonu 4 żonkile i 5 tulipanów.

Ile razem kwiatów jest w wazonie?

W wazonie razem jest kwiatów.

.....
.....

- Julka miała 9 bananów. 3 banany dała Oli.

Ile bananów zostało Julce?

Julce zostało bananów.

15. Pokoloruj na żółto liczby parzyste

1 2 3 4 5 6 7 8 9 10


16. Rozwiąż zadanie.

Na gałęzi siedziało 8 wróbli. Nagle odleciały 3 wróble.
Po pewnym czasie znowu odleciały 3 wróble. Ile wróbli zostało na gałęzi?

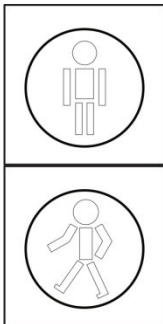
Na gałęzi zostały..... wróble.

EDUKACJA SPOŁECZNO-PRZYRODNICZA


1. Pokoloruj warzywa



2. Pokoloruj sygnalizatory zgodnie z podpisami.



Podobnie
poczynamy.pl



Podobnie
poczynamy.pl

Idź

stój

3. Otocz pętlą osoby, które zachowują się niebezpiecznie




4. Pokoloruj rysunek przedstawiający jesień.

SWIATKOLOROWANEK.PL



SWIATKOLOROWANEK.PL

5. Otocz pętlą zwierzęta leśne.



6. Narysuj flagę Polski.

7. Napisz P- jeśli to prawda, natomiast F - jeśli to fałsz czyli nieprawda.

- Wróbel zapada w sen zimowy.
- Niektóre ptaki odlatują do ciepłych krajów.
- Przysmakiem sarenek jest cukier.
- Niedźwiedź zapada w sen zimowy.

8. Otocz pętlą urządzenia elektryczne.



Stock
© 2015. All Rights Reserved.



© AGATERIA craft

